

## Задание олимпиады «Линия знаний: Товароведение непродовольственных товаров»

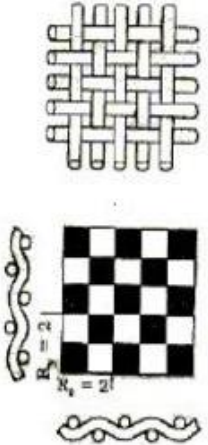
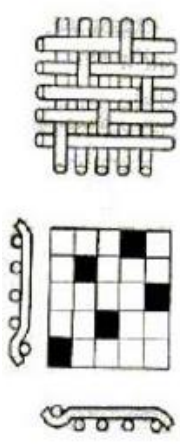
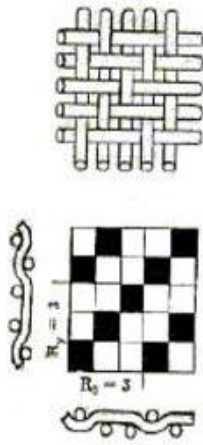
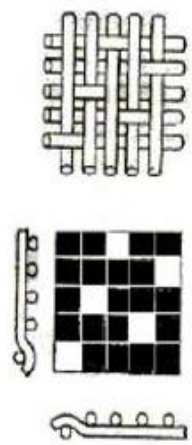








Инструкция по выполнению задания:













I. Внимательно прочтите инструкцию к разделу

II. Внимательно прочтите вопрос


III. Вариант правильного ответа (только цифры) запишите в универсальную заявку. Ответ запишите без пробелов, скобок и иных знаков.


IV. Комментарии, пояснения и прочий текст записываются после таблицы!!! (ПО ЖЕЛАНИЮ)

№ п/п	Задание (вопрос)								
<i>Инструкция по выполнению заданий №№ 1-20: выберите цифру, соответствующую правильному варианту ответа.</i>									
1.	<p>Как называются потребительские свойства, обеспечивающие удобство и комфорт при пользовании товаром?</p> <p>1) функциональные; 2) эргономические; 3) эстетические.</p>								
2.	<p>Выберите показатели гигиенических свойств тканей.</p> <p>1) гигроскопичность и воздухопроницаемость; 2) стойкость к истиранию и прочность при растяжении; 3) цвет и колористический рисунок.</p>								
3.	<p>На каком рисунке снизу изображено сатиновое ткацкое переплетение?</p> <p>1) А; 2) Б; 3) В; 4) Г.</p>								
	<table style="width: 100%; border-collapse: collapse;"> <tr> <td style="width: 25%; text-align: center;">А</td> <td style="width: 25%; text-align: center;">Б</td> <td style="width: 25%; text-align: center;">В</td> <td style="width: 25%; text-align: center;">Г</td> </tr> <tr> <td style="text-align: center;">  </td> <td style="text-align: center;">  </td> <td style="text-align: center;">  </td> <td style="text-align: center;">  </td> </tr> </table>	А	Б	В	Г				
А	Б	В	Г						
									

4.	<p>По какому признаку одежду подразделяют на плечевую и поясную?</p> <ol style="list-style-type: none"> <li>1) по назначению;</li> <li>2) по сезонности;</li> <li>3) по характеру опоры.</li> </ol>								
5.	<p>Одежда для детей младшей школьной группы предназначена для...</p> <ol style="list-style-type: none"> <li>1) для мальчиков от 6 до 11,5 лет и девочек от 6 до 11,5 лет;</li> <li>2) для мальчиков от 7 до 12,5 лет и девочек от 7 до 11,5 лет;</li> <li>3) для мальчиков от 7 до 12,5 лет и девочек от 7 до 12,5 лет.</li> </ol>								
6.	<p>На каком рисунке снизу изображено швейное изделие, относящееся к плечевой одежде?</p> <ol style="list-style-type: none"> <li>1) А;</li> <li>2) Б;</li> <li>3) В;</li> <li>4) Г.</li> </ol>								
	<table border="1" style="width: 100%; text-align: center;"> <tr> <td data-bbox="190 638 672 678">А</td> <td data-bbox="672 638 1153 678">Б</td> <td data-bbox="1153 638 1630 678">В</td> <td data-bbox="1630 638 2098 678">Г</td> </tr> <tr> <td data-bbox="190 678 672 1165">  </td> <td data-bbox="672 678 1153 1165">  </td> <td data-bbox="1153 678 1630 1165">  </td> <td data-bbox="1630 678 2098 1165">  </td> </tr> </table>	А	Б	В	Г				
А	Б	В	Г						
									
7.	<p>Как называется переплетение трикотажного изделия, которое имеет на лицевой стороне лицевые петли, на изнаночной – изнаночные?</p> <ol style="list-style-type: none"> <li>1) ажурное;</li> <li>2) гладь;</li> <li>3) ластик.</li> </ol>								

8.	<p>Трикотажная плечевая одежда с длинными рукавами, без застежки, с высоким воротником (более 5 см), покрывающая туловище и частично бедра – это...</p> <ol style="list-style-type: none"> <li>1) джемпер;</li> <li>2) жакет;</li> <li>3) свитер.</li> </ol>	
9.	<p>Как называется нетканый материал на рисунке справа?</p> <ol style="list-style-type: none"> <li>1) геотекстильное полотно;</li> <li>2) полотно «Ватин»;</li> <li>3) термовойлок.</li> </ol>	
10.	<p>Английский термин «Imitation knitted fur with pile sheepskin finish» означает...</p> <ol style="list-style-type: none"> <li>1) трикотажный искусственный мех с отделкой ворса под "овчину";</li> <li>2) трикотажный искусственный мех с фасонной стрижкой ворса;</li> <li>3) трикотажный искусственный мех с тисненным ворсом.</li> </ol>	
11.	<p>Что обозначает номер чулок и носков?</p> <ol style="list-style-type: none"> <li>1) обхват ступни в пучково-фаланговой части;</li> <li>2) длина нижней части следа от носка до пятки;</li> <li>3) длина ноги.</li> </ol>	
12.	<p>Ковровое покрытие относится к шерстяным при содержании в пряже, формирующей ворс или рабочую поверхность...</p> <ol style="list-style-type: none"> <li>1) не менее 20 % шерстяных волокон;</li> <li>2) не менее 70 % шерстяных волокон;</li> <li>3) не менее 95 % шерстяных волокон.</li> </ol>	

13.	<p>Что такое дефект внешнего вида ткани «растраф рисунка»?</p> <ol style="list-style-type: none"> <li>1) отсутствие в некоторых местах изображения деталей рисунка или нечеткое изображение рисунка;</li> <li>2) сбитый рисунок на ткани из-за неточного изготовления рисунка на шаблонах или неправильной установки шаблона на печатной машине;</li> <li>3) смещении отдельных деталей рисунка на ткани.</li> </ol>	
14.	<p>Какое изделие из натурального меха не требует маркировки контрольным (идентификационным) знаком на рисунке справа?</p> <ol style="list-style-type: none"> <li>1) воротник и отвороты (при условии, что воротник и отвороты не увеличены до такой степени, что превращаются в целую пелерину или болеро);</li> <li>2) муфты;</li> <li>3) шубы.</li> </ol>	
15.	<p>На товарном ярлыке, прикрепленном к меховой одежде указано «Lynx lynx». Из шкурки какого животного изготовлено данная меховая одежда?</p> <ol style="list-style-type: none"> <li>1) бобр обыкновенный;</li> <li>2) рысь обыкновенная;</li> <li>3) песец обыкновенный.</li> </ol>	
16.	<p>Как подразделяется по назначению швейное бельё?</p> <ol style="list-style-type: none"> <li>1) верхнее, нижнее, постельное, столовое, детское;</li> <li>2) верхнее, нательное, постельное, столовое;</li> <li>3) верхнее, нижнее, простыни, скатерти, салфетки.</li> </ol>	
17.	<p>Для маркирования готовых швейных изделий могут применяться ...</p> <ol style="list-style-type: none"> <li>1) товарный ярлык, лента с изображением товарного знака, клеймо, контрольная лента;</li> <li>2) клеймо, товарный ярлык, штамп, упаковочный ярлык, бумажная бандероль, контрольная лента, лента с символами по уходу;</li> <li>3) оба ответа правильные.</li> </ol>	
18.	<p>Какой реквизит должно содержать клеймо на верхних сорочках?</p> <ol style="list-style-type: none"> <li>1) размер;</li> <li>2) символы по уходу за изделием;</li> <li>3) состав сырья.</li> </ol>	

<p>19. Выберите определение головного убора, изображенного на рисунке справа.</p> <ol style="list-style-type: none"> <li>1) швейный головной убор с козырьком, плотно облегающий верхнюю часть головы;</li> <li>2) швейный головной убор, плотно облегающий голову и закрывающий уши;</li> <li>3) швейный трикотажный головной убор без полей круглой или овальной формы.</li> </ol>			
<p>20. На каком рисунке снизу изображено плечевая одежда «фуфайка»?</p> <ol style="list-style-type: none"> <li>1) А;</li> <li>2) Б;</li> <li>3) В;</li> <li>4) Г;</li> <li>5) А и В;</li> <li>6) А и Г;</li> <li>7) Б и В;</li> <li>8) Б и Г;</li> <li>9) А, В, Г;</li> <li>10) Б, В, Г;</li> <li>11) А, Б, В;</li> <li>12) А, Б, В, Г.</li> </ol>			
А	Б	В	Г
